A colorful illustration of an apple orchard. A girl with blue hair and a red shirt holds three apples. A yellow cartoon character with a basket of four apples, a black cartoon character on a rock with a speech bubble, and an orange cartoon character with a ladder and two apples are also present. An apple tree with red fruit and a wooden ladder is in the background.

Jag har plockat  
tre äpplen.

Jag har plockat  
fyra.

Jag har plockat  
två.

Vem har plockat  
flest äpplen?



### Jämför och räkna

Samtalsbild. Jämför antalet äpplen  
vännerna har plockat. Jämför antalet  
gula, lila och rosa blommor.

Vem har flest? Ringa in.



Vilken vagn har minst antal filurer?  
Ringa in.






Hjälp mattedraken ut ur grottan.  
Gå bara där talen är större än 5.



© Skolplus AB. Användande av detta upphovsrättskyddade material kräver giltig licens för Skolplus.




Dela lika. Ringa in.







© Skolplus AB. Användande av detta upphovsrättsskyddade material kräver giltig licens för Skolplus.



Didi har så här många.



Pim har dubbelt så många.  
Rita.



© Skolplus AB. Användande av detta upphovsrättsskyddade material kräver giltig licens för Skolplus.



Hur många filurslantor behöver Matilda för att köpa detta? Rita pengarna. Skriv antalet.



Four circles representing coins, with the number 4 written next to them.

4



An empty box for drawing coins.

.....


© Skolplus AB. Användande av detta upphovsrättskyddade material kräver giltig licens för Skolplus.




Hur många filurslantor behövs det?  
Priserna ser du på förra sidan.



.....



.....



.....



.....




.....


© Skolplus AB. Användande av detta upphovsrättskyddade material kräver giltig licens för Skolplus.

# Problemlösning!

Matilda har delat frukterna. Hur många hela frukter var det från början? Rita.

	
---	--

	
---	--

	
---	--

© Skolplus AB. Användande av detta upphovsrättsskyddade material kräver giltig licens för Skolplus.

# Problemlösning!

Matilda och hennes filurvänner är i huset.  
Deras skor är utanför. Hur många filurer är det?



© Skolplus AB. Användande av detta upphovsrättsskyddade material kräver giltig licens för Skolplus.