


Matte+

Träna mera



Addition uppställning

0-100 med och utan övergång

0-1 000 med och utan övergång

0-10 000 med och utan övergång

Textuppgifter

Namn:

Upphovsrätten till materialet tillhör Skolplus AB och respektive upphovsman. Materialet kan användas i den egna interna verksamheten under förutsättning att man har en licens för Skolplus. Se vår webbsida skolplus.se för priser. Materialet får ej spridas vidare på till exempel internet.



Addition uppställning • 0-100 utan övergång

Så här kan du addera talen 42 och 34.



	4	2
+	3	4
<hr/>		

1. Ställ upp talen så att ental hamnar ovanför ental och tiotal ovanför tiotal.

	4	2
+	3	4
<hr/>		
		6

2. Börja från höger med att addera entalen.
 $2 + 4 = 6$
Summan är 6.

Skriv 6 under strecket i entalskolumnen.

	4	2
+	3	4
<hr/>		
	7	6

3. Addera sedan tiotalen.
 $4 + 3 = 7$
Summan är 7.

Skriv 7 under strecket i tiotalskolumnen.

Nu har du svaret. Det blir 76.



Räkna.

	4	2
+	3	3
<hr/>		

	2	8
+	6	1
<hr/>		

	3	3
+	5	3
<hr/>		

	7	2
+	1	4
<hr/>		

	7	6
+	2	2
<hr/>		

	5	3
+	1	4
<hr/>		

	1	5
+	8	3
<hr/>		

	1	6
	2	3
+	3	0
<hr/>		

	2	2
	2	6
+	4	1
<hr/>		

	4	4
	4	2
+		3
<hr/>		



Hur många flugor har grodorna fångat? Ställ upp och räkna.

Måndag
 $24 + 35$

Tisdag
 $26 + 22$

Onsdag
 $52 + 27$

Torsdag
 $25 + 12 + 42$

Fredag
 $43 + 23 + 2$



<hr/>		

<hr/>		

<hr/>		

<hr/>		

<hr/>		



Räkna.

	4	6	2
+	2	3	5
<hr/>			

	2	9	8
+	7	0	1
<hr/>			

	2	4	5
+	6	3	2
<hr/>			

	3	2	2
+	2	4	6
<hr/>			

		1	1
	5	2	5
+	4	3	0
<hr/>			

		6	2
		3	5
+	4	0	2
<hr/>			

		6	3	4
		2	1	1
+		3	3	
<hr/>				


		3	1	1
		3	4	3
+		2	3	2
<hr/>				

Hur många skruvar gick det åt för att bygga varje robot?
Ställ upp och räkna.



Gröna roboten:

huvud 131 skruvar,
kropp 258 skruvar.




<hr/>			

Svar:

Blå roboten:

huvud 63 skruvar,
kropp 234 skruvar.




<hr/>			

Svar:

Gula roboten:

huvud 233 skruvar,
kropp 256 skruvar.



<hr/>			

Svar:

Vilka siffror ska stå istället för symbolerna?

	4	6	
+	2	3	5
<hr/>			
	6	9	7

=

	2	9	8
+		0	1
<hr/>			
	5	9	9

=

	3		5
+		3	2
<hr/>			
	7	5	7

=

=


	7	2	
+	2		6
<hr/>			
	9	8	8

=

=




Hur mycket kostar det? Ställ upp och räkna.


<hr/>			

Svar:.....




<hr/>			

Svar:.....



<hr/>			

Svar:.....




<hr/>			

Svar:.....

Läs igenom uppgiften och räkna ut svaret.

Olivia plockar äpplen i trädgården. Hon plockar 123 röda, 44 gröna och 22 gula äpplen. Hur många äpplen plockar hon sammanlagt?

<hr/>			




Svar:



Addition uppställning • 0-100 med övergång

Ibland måste du använda minnessiffran. Som när du adderar talen 47 och 35.



	4	7
+	3	5

1. Ställ upp talen så att ental hamnar ovanför ental och tiotal ovanför tiotal.

	<u>1</u>	
	4	7
+	3	5
		2

2. Börja från höger och addera entalen.
 $7 + 5 = 12$
 Summan är 12.
 12 är samma som 1 tiotal och 2 ental.
 Skriv 1 överst i tiotalskolumnen som minnessiffra och 2 i entalkolumnen under strecket.

	<u>1</u>	
	4	7
+	3	5
	8	2

3. Addera sedan tiotalen. Glöm inte minnessiffran.
 $1 + 4 + 3 = 8$
 Summan är 8.
 Skriv 8 i tiotalraden under strecket.
 Nu har du svaret. Det blir 82.

Räkna.

	4	8
+	3	3

	3	8
+	4	4

	2	9
+	5	3

	7	2
+	1	8

	6	7
+	2	7

	3	8
+	2	4

	2	4
+	6	7

	3	3
+	3	8

	3	6
+	4	8

	2	5
+	5	8

Hur många planeter har rymdvarelserna besökt? Ställ upp och räkna.


Måndag
 $27 + 35$

Tisdag
 $29 + 29$

Onsdag
 $57 + 27$

Torsdag
 $27 + 14$

Fredag
 $26 + 26$





Räkna.

	3	4	6
+	2	4	5
<hr/>			

	4	4	8
+	4	0	4
<hr/>			

	2	9	6
+	4	3	6
<hr/>			

	6	3	4
+	2	9	9
<hr/>			

	2	4	8
+	4	5	6
<hr/>			

	4	4	5
+		8	9
<hr/>			

	1	8	7
+		2	7
<hr/>			

		9	3
+	6	4	9
<hr/>			

Hur mycket pengar finns i varje spargris? Ställ upp och räkna.



Emmas spargris:
129+185 kr.

<hr/>			



Eriks spargris:
68+209 kr.

<hr/>			



Josefs spargris:
234+288 kr.

<hr/>			

Svar:

Svar:

Svar:

Först bakade bagaren 365 syltkakor.
Sedan bakade han 258 kolakakor.
Hur många kakor bakade han
sammanlagt?




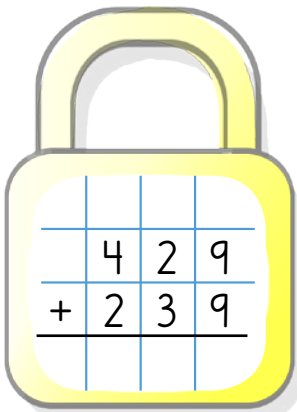
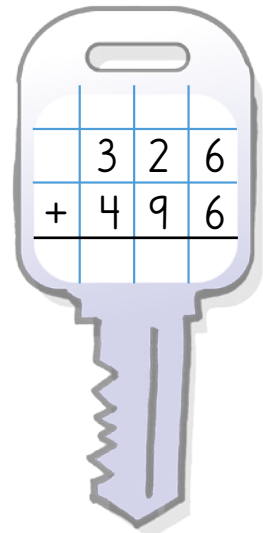
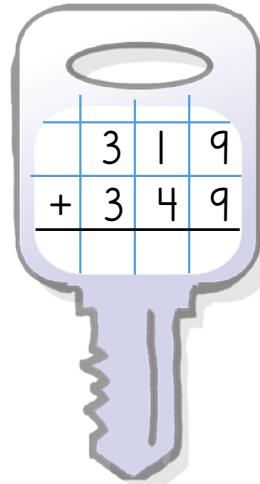
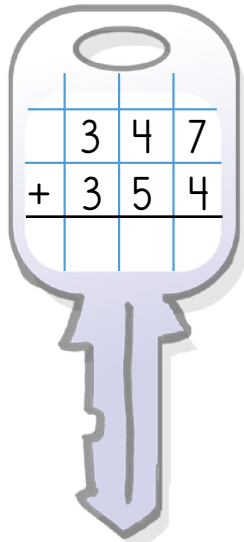
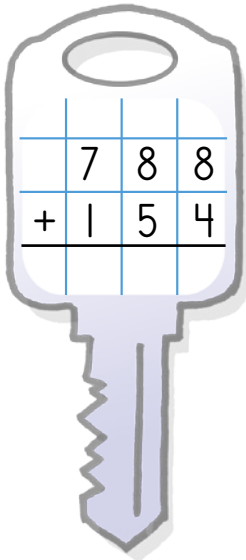
Svar:

<hr/>			


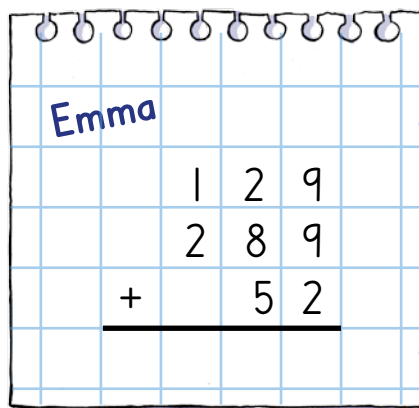
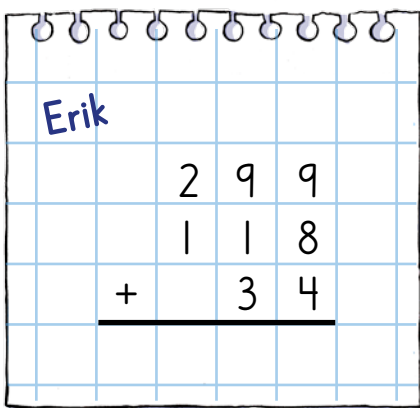




Vilken nyckel passar i vilket lås? Räkna ut additionerna och dra streck mellan de nycklar och lås som har samma summa.



Erik och Emma har sålt saker på loppis. Räkna först ut hur mycket de tjänade var för sig. Räkna sedan ut hur mycket de tjänade tillsammans.





Räkna.

	5	7	8	2
+	2	2	1	5
<hr/>				

	3	8	5	6
+	3	4	3	6
<hr/>				

	8	6	4	8
+		6	8	3
<hr/>				

		3	2	3
	+	7	5	4
<hr/>				

	2	1	4	3
+	6	0	6	6
<hr/>				


	5	6	7	5
+	3	5	2	3
<hr/>				


	3	0	4	9
+	3	9	1	2
<hr/>				


		5	5	7
	+	5	6	7
<hr/>				

Vad vinner du på lotterna? Räkna och dra streck mellan lotten och vinsten som hör ihop.

★ Vinster ★

9832 = 

5392 = 

8786 = 

7541 = Nitlott

TURLOTTERIET

	3	0	6	8
+	2	3	2	4
<hr/>				

TURLOTTERIET

	6	4	2	1
+	3	4	1	1
<hr/>				

TURLOTTERIET

	6	3	9	8
+	2	3	8	8
<hr/>				

TURLOTTERIET

	4	8	3	6
+	2	7	0	5
<hr/>				