


Matte+

Träna mera



Positionssystemet


Tiotal – ental

Namn:

Upphovsrätten till materialet tillhör Skolplus AB och respektive upphovsman. Materialet kan användas i den egna interna verksamheten under förutsättning att man har en licens för Skolplus. Se vår webbsida skolplus.se för priser. Materialet får ej spridas vidare på till exempel internet.



Ringa in 10 stycken i taget.



Hur många har du ringat in?

--	--

Hur många blir över?

--


Hur många kolor är det?

--	--

Hur många kolor är det?



--	--



--	--



--	--

Rita 25 kolor.





Vad är summan?

10 1 1 1 1 1

--	--

 kr

10 10 10 1 1

--	--

 kr


10 10 10 10 10 10 1 1

--	--


 kr

Rita summan.


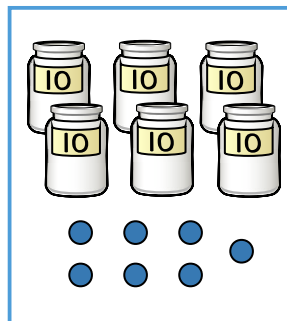
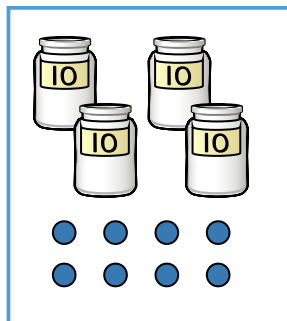
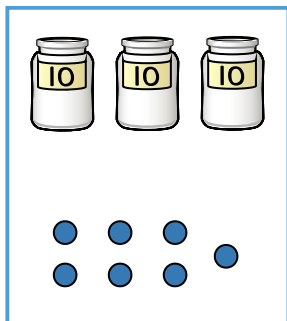
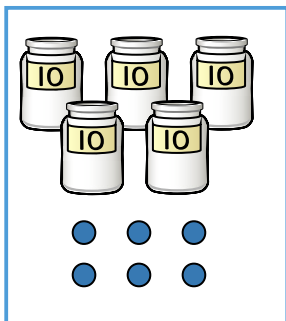
42 kr



61 kr



Vilka kulor ska vara i vilken låda? Dra streck.




Måla 22 kulor röda.

Måla 41 kulor blåa.

Måla 13 kulor gula.

Måla 35 kulor gröna.



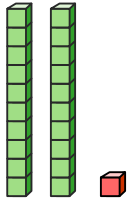
Hur många kulor blir över?

--	--

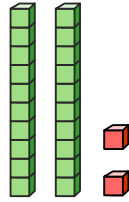




Rita och skriv.



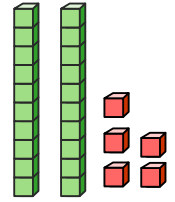
--	--



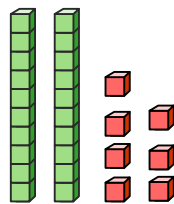
--	--

2	3
---	---

2	4
---	---



--	--

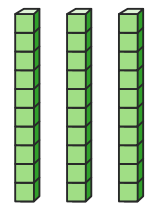


2	6
---	---

--	--

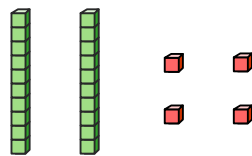
2	8
---	---

2	9
---	---



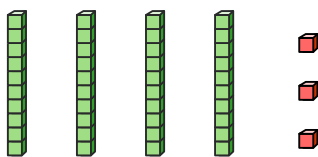
--	--

Vilket tal visas?



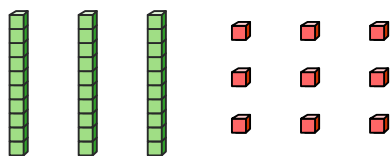
___ tiotal ___ ental

--	--



___ tiotal ___ ental

--	--



___ tiotal ___ ental

--	--

Rita talet.

3 tiotal 5 ental

--	--



Para ihop.

4 tiotal 6 ental

7 tiotal 1 ental

6 tiotal 4 ental

1 tiotal 7 ental

4 tiotal 7 ental

64

17

46

71

47

Vilket tal är störst? _____

Vilket tal är minst? _____

Dra streck till talen som bygger talet 42.

40

2

42

4

20

Dra streck till talen som bygger talet 37.

70




3

37

7

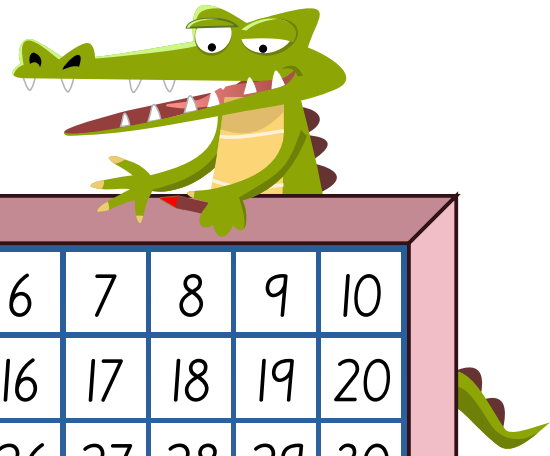
30

Vilket tal är störst? Ringa in.





Följ krokodilens väg genom hundrarutan.



1	2	3	4	5	6	7	8	9	10
11	12	13	14	15	16	17	18	19	20
21	22	23	24	25	26	27	28	29	30
31	32	33	34	35	36	37	38	39	40
41	42	43	44	45	46	47	48	49	50
51	52	53	54	55	56	57	58	59	60
61	62	63	64	65	66	67	68	69	70
71	72	73	74	75	76	77	78	79	80
81	82	83	84	85	86	87	88	89	90
91	92	93	94	95	96	97	98	99	100

1. Han startar på ruta **5 tiotal 7 ental**.
Måla grön.
2. Öka med **1 ental**. Måla blå.
3. Öka med **1 tiotal**. Måla röd.
4. Minska med **3 ental**. Måla gul.
5. Öka med **2 tiotal**. Måla lila.
6. Minska med **2 ental**. Måla grå.
7. Minska med **4 tiotal**. Måla svart.
8. Minska med **1 ental**. Måla rosa.
9. Öka med **5 tiotal**. Måla brun.
10. Öka med **7 ental**.

Var hamnar krokodilen? _____