


Matte+

Träna mera



Positionssystemet

Tusental – hundratal – tiotal – ental

Namn:

Upphovsrätten till materialet tillhör Skolplus AB och respektive upphovsman. Materialet kan användas i den egna interna verksamheten under förutsättning att man har en licens för Skolplus. Se vår webbsida skolplus.se för priser. Materialet får ej spridas vidare på till exempel internet.



Vad är summan?

1000 1000 100 100 10 10 10 1 1 1

--	--	--	--

 kr

1000 1000 1000 1000 100 100 10 10 1 1 1 1 1 1

--	--	--	--

 kr

1000 1000 1000 1000 1000 1000 100 100 100 100 10 10 10 10 10 10 1 1 1 1

--	--	--	--

 kr

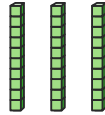
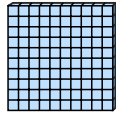
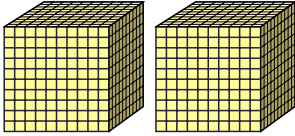
Rita summan.

3164 kr

2313 kr

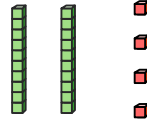
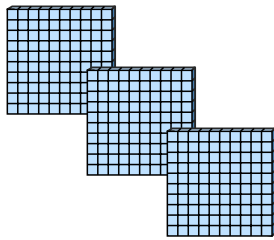
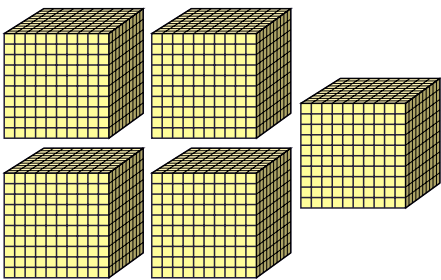


Vilket tal visas?



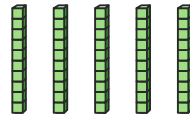
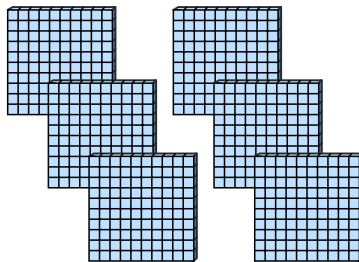
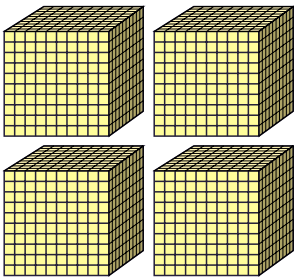
--	--	--	--

___ tusental ___ hundratal ___ tioral ___ ental



--	--	--	--

___ tusental ___ hundratal ___ tioral ___ ental



--	--	--	--

___ tusental ___ hundratal ___ tioral ___ ental

Rita talet.

--	--	--	--

3 tusental 2 hundratal 3 tioral 5 ental



Para ihop.

5 tiotal 1 tusental 8 hundratal 2 ental

5 ental 2 hundratal 1 tusental 8 tiotal

8 hundratal 1 tiotal 5 tusental 2 ental

2 tiotal 5 hundratal 1 ental 8 tusental

8 tusental 5 ental 2 tiotal 1 hundratal

8 ental 2 tusental 5 tiotal 1 hundratal

5812

1285

8125

2158

8521

1852

Vilket tal är störst? _____

Vilket tal är minst? _____

Dra streck till talen som bygger talet 4736.


4736

700, 4, 3000, 4000, 300, 60, 3, 400, 6, 70, 7000, 30

Bygg andra tal. Använd talen som är kvar ovanför och placera på rätt position.

--	--	--	--

--	--	--	--





Vilka tal tänker krokodilen på?

3	1	6	7
---	---	---	---

Öka med 3 hundratal.

--	--	--	--

Öka med 2 tusental.

--	--	--	--

Öka med 1 ental.

--	--	--	--

5	4	8	2
---	---	---	---

Minska med 4 tusental.

--	--	--	--

Minska med 3 tiotal.

--	--	--	--

Minska med 2 hundratal.

--	--	--	--

7	4	2	5
---	---	---	---

Minska med 3 hundratal.

--	--	--	--

Öka med 2 ental.

--	--	--	--

Öka med 5 tiotal.

--	--	--	--

9	2	8	3
---	---	---	---

Öka med 4 hundratal.

--	--	--	--

Minska med 3 ental.

--	--	--	--

Minska med 2 tusental.

--	--	--	--

