


# Matte+

Träna mera



## Siffror och tal 0–20

räkna till 20  
ordningstal  
fler, färre  
dubbelt, hälften  
udda, jämnt

Namn: .....




Upphovsrätten till materialet tillhör Skolplus AB och respektive upphovsman. Materialet kan användas i den egna interna verksamheten under förutsättning att man har en licens för Skolplus. Se vår webbsida skolplus.se för priser. Materialet får ej spridas vidare på till exempel internet.



Räkna till 20.


0	_____	_____	_____	_____	_____	_____
_____	8	_____	_____	_____	12	_____
_____	_____	_____	17	_____	_____	_____

Vilka tal saknas?





Dra streck från prick till prick. Börja vid 0.  
Måla sedan bilden.





Hur många kronor är det?

\_\_\_\_\_ kr

\_\_\_\_\_ kr

\_\_\_\_\_ kr

\_\_\_\_\_ kr

\_\_\_\_\_ kr

\_\_\_\_\_ kr



Dra streck.

fjortonde

tjugonde

nittonde

elfte

trettonde

femtonde

artonde

sjuttonde

tolfte

sextonde

tionde

femte

tredje

nionde

sjätte

fjärde

åttonde

sjunde

första

andra



Räkna från talet 10.



1 fler \_\_\_\_\_


1 färre \_\_\_\_\_

2 fler \_\_\_\_\_

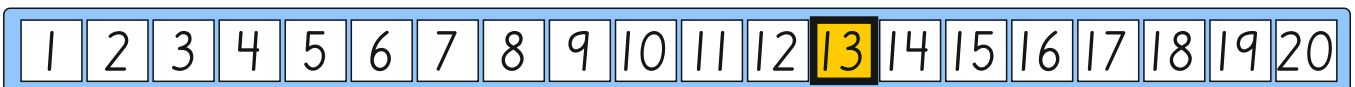
2 färre \_\_\_\_\_

3 fler \_\_\_\_\_

3 färre \_\_\_\_\_



Räkna från talet 13.

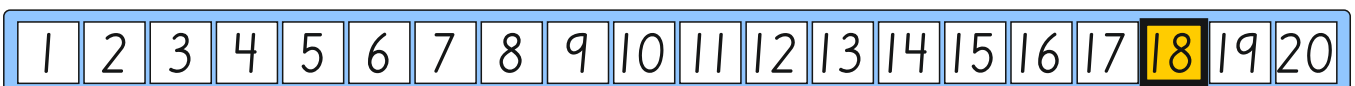


4 fler \_\_\_\_\_

7 fler \_\_\_\_\_

5 fler \_\_\_\_\_

Räkna från talet 18.



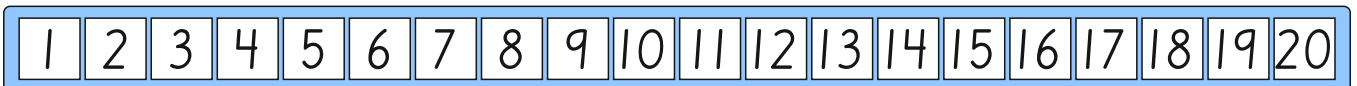
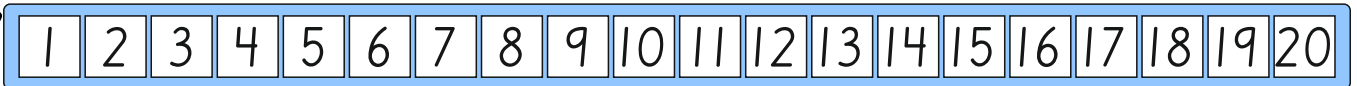
4 färre \_\_\_\_\_

7 färre \_\_\_\_\_

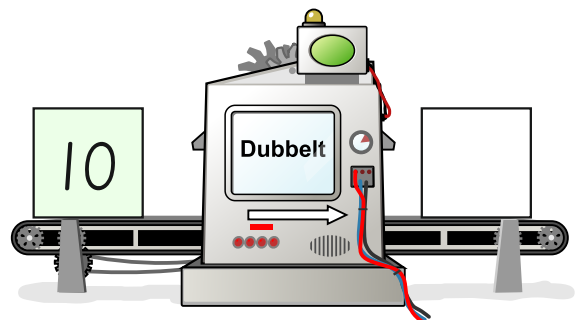
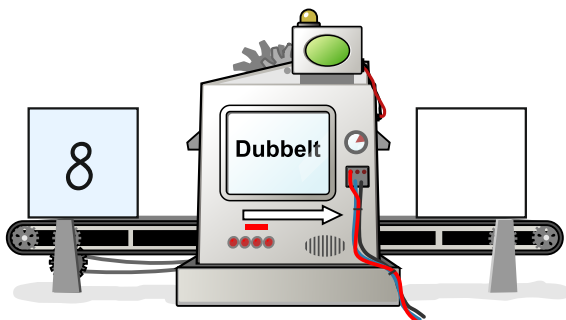
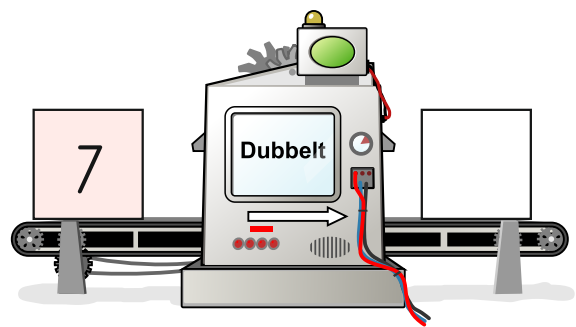

9 färre \_\_\_\_\_



Måla dubbelt så många.



Vilket tal kommer ut ur dubbeltmaskinen?





Måla hälften så många.







1	2	3	4	5	6	7	8	9	10	11	12	13	14
---	---	---	---	---	---	---	---	---	----	----	----	----	----

1	2	3	4	5	6	7	8	9	10	11	12	13	14	15	16	17	18	19	20
---	---	---	---	---	---	---	---	---	----	----	----	----	----	----	----	----	----	----	----

1	2	3	4	5	6	7	8	9	10	11	12	13	14	15	16	17	18
---	---	---	---	---	---	---	---	---	----	----	----	----	----	----	----	----	----

1	2	3	4	5	6	7	8	9	10	11	12	13	14	15	16	17	18	19	20
---	---	---	---	---	---	---	---	---	----	----	----	----	----	----	----	----	----	----	----

Vilket tal kommer ut ur hälftenmaskinen?

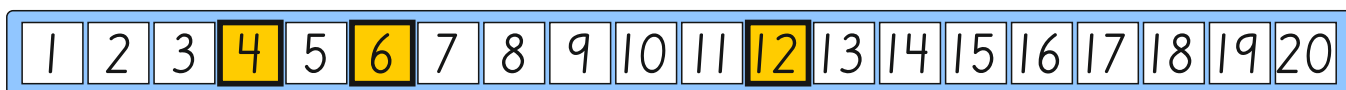




Måla alla udda tal.



Måla alla jämna tal.



Skriv talen i rätt låda.

Udda tal: 1, 3, 5, 7, 9, 11, 13, 15, 17, 19

Jämna tal: 2, 4, 6, 8, 10, 12, 14, 16, 18, 20