

# Matte+

Träna mera



## Subtraktion 0-10

Begrepp

Tallinjen

Textuppgifter





Subtraktion

Namn: .....

Upphovsrätten till materialet tillhör Skolplus AB och respektive upphovsman. Materialet kan användas i den egna interna verksamheten under förutsättning att man har en licens för Skolplus. Se vår webbsida skolplus.se för priser. Materialet får ej spridas vidare på till exempel internet.



Färglägg ballongen där det finns en subtraktion.



Subtraktion är när du tar bort. Då använder du minustecknet. Det ser ut så här: —



Ringa in differensen.

$6 - 2 = 4$

$3 - 1 = 2$

$10 - 3 = 7$

$8 - 5 = 3$

$5 - 3 = 2$

$4 - 1 = 3$

Svaret du får kallas differens. Det betyder skillnad.



Stryk över de äpplen krokodilen äter upp och skriv subtraktionen.


6 äpplen minus 3 äpplen är lika med 3 äpplen.



$6 - 3 = 3$



4 äpplen minus 2 äpplen är lika med 2 äpplen.



$\underline{\quad} - \underline{\quad} = \underline{\quad}$

7 äpplen minus 1 äpple är lika med 6 äpplen.



$\underline{\quad} - \underline{\quad} = \underline{\quad}$

5 äpplen minus 4 äpplen är lika med 1 äpple.



$\underline{\quad} - \underline{\quad} = \underline{\quad}$



Hur mycket blir kvar? Stryk det som apan äter upp och skriv differensen.



$$5 - 2 = \underline{3}$$




$$4 - 2 = \underline{\quad}$$



$$3 - 2 = \underline{\quad}$$



$$4 - 3 = \underline{\quad}$$



$$2 - 1 = \underline{\quad}$$



$$3 - 3 = \underline{\quad}$$





$$5 - 3 = \underline{\quad}$$



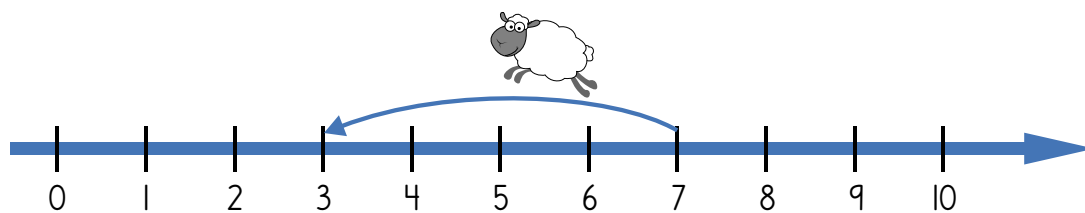
$$5 - 4 = \underline{\quad}$$

Måla blomman och humlan som hör ihop i samma färg.

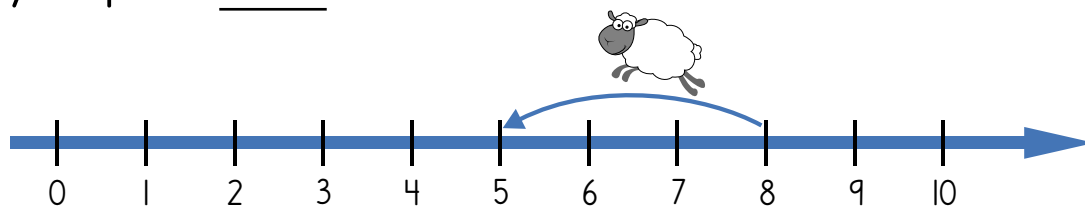




Fåret hoppar på tallinjen. Skriv färdigt subtraktionen.



$$7 - 4 = \underline{\quad}$$



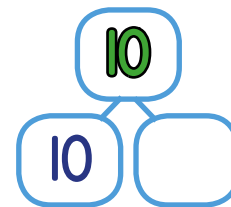
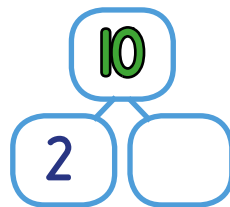
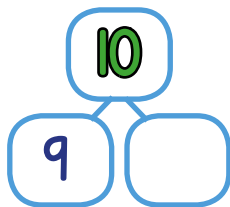
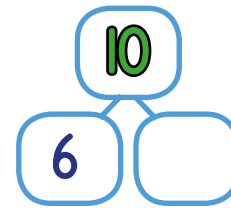
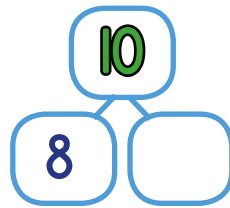
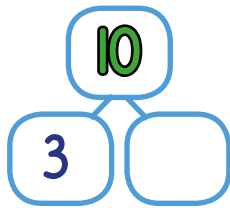
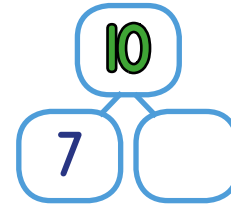
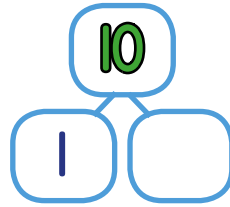
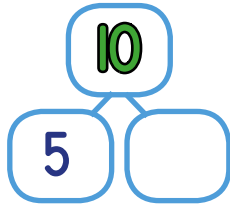
$$8 - 3 = \underline{\quad}$$

Hur mycket blir kvar?

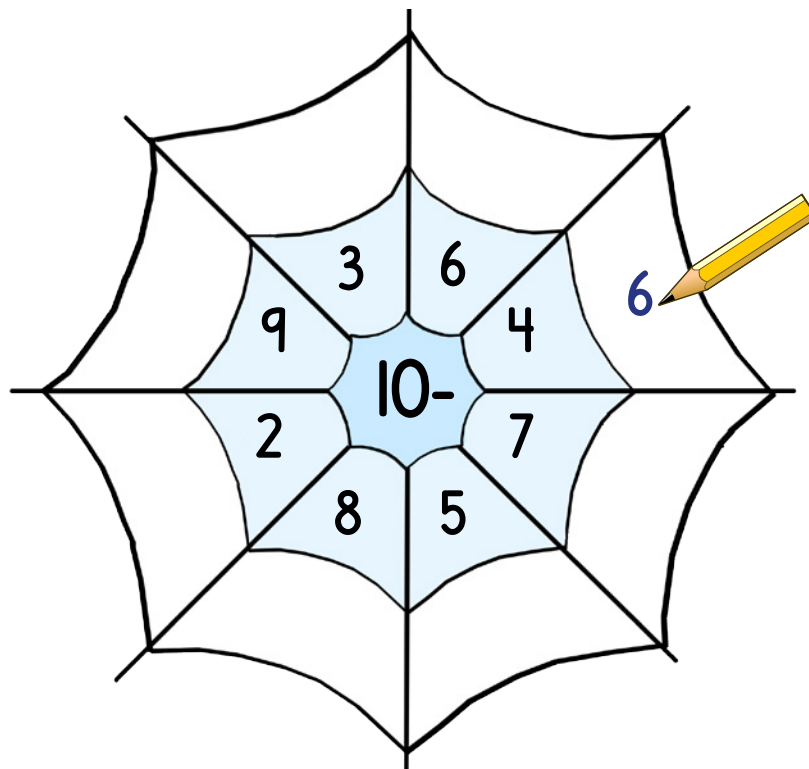

$$9 - 2 = \underline{\quad}$$
$$7 - 3 = \underline{\quad}$$
$$6 - 2 = \underline{\quad}$$
$$9 - 5 = \underline{\quad}$$
$$7 - 7 = \underline{\quad}$$
$$9 - 3 = \underline{\quad}$$
$$8 - 2 = \underline{\quad}$$
$$6 - 4 = \underline{\quad}$$
$$8 - 7 = \underline{\quad}$$



Minns du tiokamraterna? Fyll i så att det stämmer.

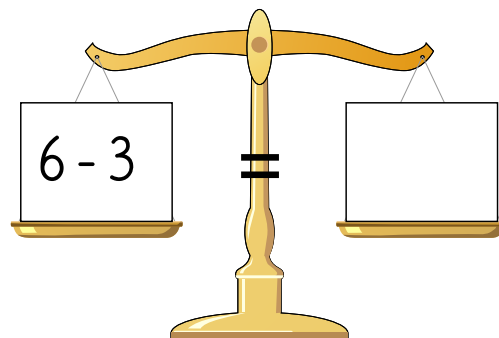
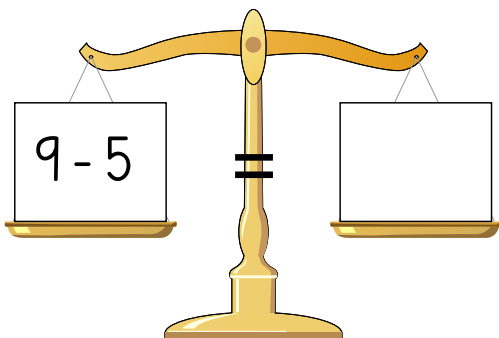
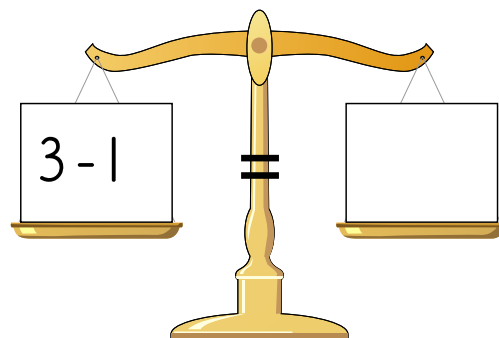
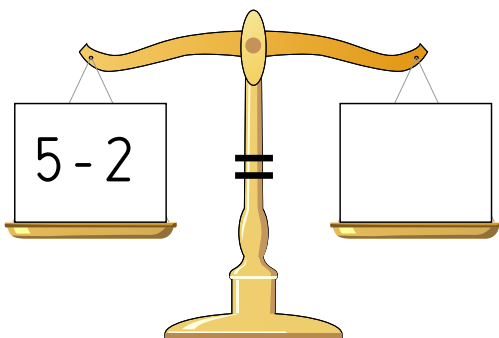

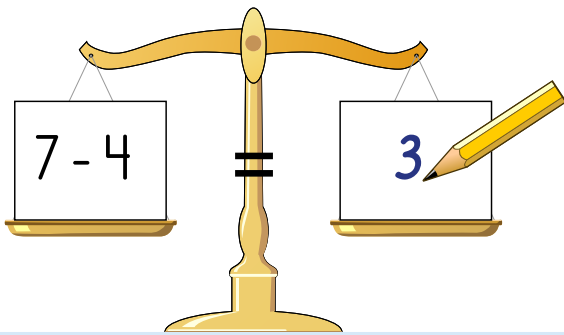


Subtrahera och fyll i differensen i den yttersta delen av spindelnätet.





Det väger lika mycket på båda sidor. Skriv talet som saknas.






Läs texten noga och lös uppgifterna.

Miriam äter 8 bullar.  
Samir äter 4 bullar.

Hur många färre bullar äter Samir?

Samir äter \_\_\_\_\_ bullar färre.



William har 9 fiskar.  
Gabriel har 7 fiskar.

Hur många fler fiskar har William?

William har \_\_\_\_\_ fiskar fler.

Krokodilen lånar 10 böcker på biblioteket.  
Apan lånar 6 böcker.

Hur många färre böcker lånar apan?

Apan lånar \_\_\_\_\_ böcker färre.





Räkna ut subtraktionerna och färglägg bilden.

1 = rosa

2 = röd

3 = blå

4 = lila

5 = grön


6 = brun

7 = gul

8 = orange

9 = grå

10 = svart





Isbjörnen har fångat fler fiskar än pingvinen. Jämför och fyll i skillnaden.



Isbjörnens fiskar



Pingvinens fiskar

Rita hur många fler isbjörnen har.

Hur stor är skillnaden?

Hur mycket pengar fattas för att kunna köpa en glass?

Du har

Det fattas

5 kr

7 kr

4 kr

9 kr



glass  
10kr



Lös subtraktionerna.

$8 - 2 = \underline{\quad}$

$4 - 3 = \underline{\quad}$

$1 - 0 = \underline{\quad}$

$6 - 6 = \underline{\quad}$

$5 - 2 = \underline{\quad}$

$3 - 2 = \underline{\quad}$

$9 - 7 = \underline{\quad}$

$8 - 6 = \underline{\quad}$

$2 - 0 = \underline{\quad}$

$6 - 4 = \underline{\quad}$

$4 - 1 = \underline{\quad}$

$7 - 6 = \underline{\quad}$

$3 - 1 = \underline{\quad}$

$7 - 5 = \underline{\quad}$

$4 - 2 = \underline{\quad}$

$10 - 5 = \underline{\quad}$

$1 - 1 = \underline{\quad}$

$2 - 1 = \underline{\quad}$

$9 - 4 = \underline{\quad}$

$5 - 3 = \underline{\quad}$

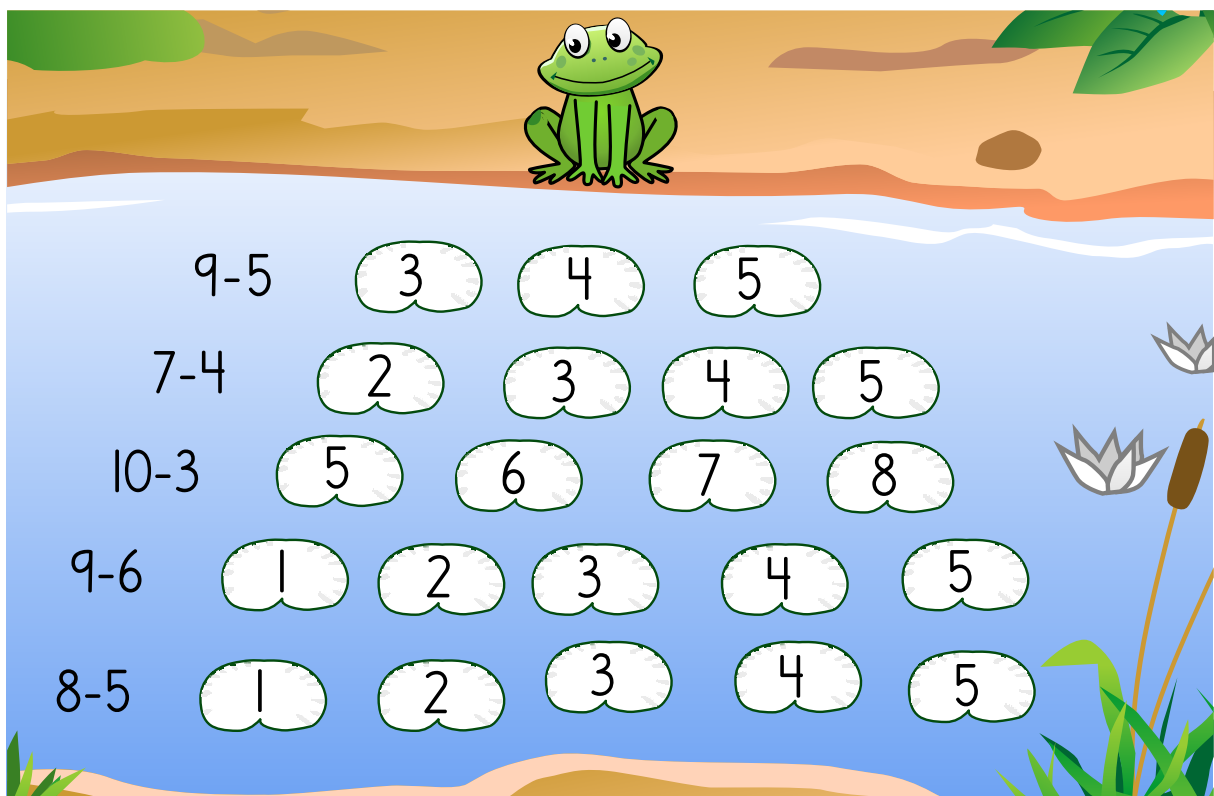
$10 - 4 = \underline{\quad}$

$6 - 3 = \underline{\quad}$

$0 - 0 = \underline{\quad}$

$5 - 2 = \underline{\quad}$

Hjälp grodan till andra sidan. Färglägg stenarna som visar rätt differens.





Det väger lika mycket på båda sidor. Skriv färdigt uppgiften.

