

Matte+

Träna mera



2 liter =
20 dl

Volym 1

Liter och deciliter

Matsked, tesked och kryddmått

Namn:


Upphovsrätten till materialet tillhör Skolplus AB.
Materialet kan användas i den egna interna verksamheten under förutsättning att man har en licens för Skolplus. Se vår webbsida skolplus.se för priser. Materialet får ej spridas vidare på till exempel internet.




Med **volym** menas hur mycket som ryms inuti något. Ett sätt att mäta det är i **liter** och **deciliter**.

Liter förkortas *l*.
Deciliter förkortas *dl*.

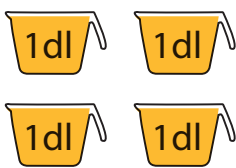
1 liter är 10 deciliter.



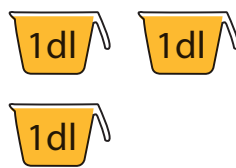
=



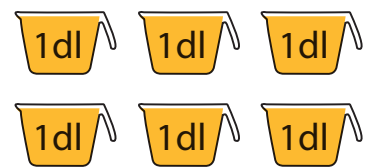
Hur många deciliter saft är det?



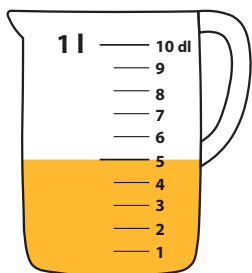
..... dl



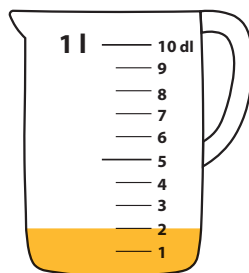
..... dl




..... dl



..... dl



..... dl



..... dl



Måla rätt mängd saft.

4 dl

10 dl

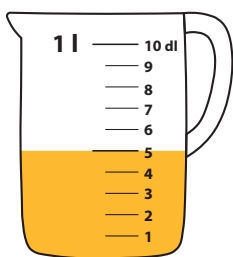
2 dl

4 dl

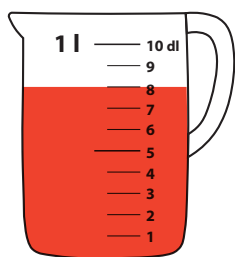
8 dl

5 dl

Det fanns en liter saft i varje kanna.
Hur många deciliter har elefanten druckit från var och en?




.....dl




.....dl




.....dl




.....dl





.....dl



.....dl




= 1 liter

= ca 2 deciliter

Ett vanligt mjölkpaket rymmer 1 liter.
Ett litet glas rymmer ungefär 2 deciliter.



Hur mycket tror du rymmer? Ringa in.



1 dl
1 liter



3 dl
3 liter




1 dl
1 liter



10 dl
10 liter




2 dl
2 liter




2 dl
2 liter


Hur mycket blir det tillsammans?



..... dl




..... dl



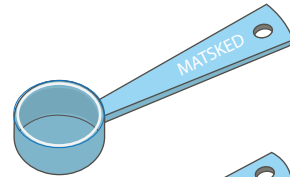
..... dl




I recept används ofta måtten matsked, tesked och kryddmått.



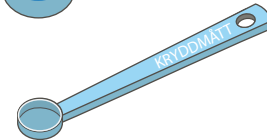
Matsked (msk)



Tesked (tsk)



Kryddmått (krm)



Ringa in det största måttet. Kryssa över det minsta.

Matsked

Tesked

Kryddmått

Krokodilen älskar plättar! Gör om receptet så att det räcker till åtta portioner.

Plättar

4 portioner

2 ägg

5 dl mjölk

2 dl mjöl

En halv tsk salt

1 msk smör

8 portioner

..... ägg

..... mjölk

..... mjöl

..... salt

..... smör

Kom ihåg att skriva enhet, som dl, msk eller tsk, där det behövs.





Skriv som deciliter.



..... dl



..... dl



..... dl



..... dl



..... dl



..... dl

Skriv som liter.

10 dl = l

60 dl = l

90 dl = l

30 dl = l

40 dl = l

100 dl = l

80 dl = l

50 dl = l

Skriv som liter och deciliter.

38 dl = l och dl

12 dl = l och dl

26 dl = l och dl



Du får hjälp med den första. 38 deciliter är lika med 3 liter och 8 deciliter.

7 dl = l och dl

43 dl = l och dl



Räkna ut och skriv som liter och deciliter.

$$8 \text{ dl} + 4 \text{ dl} = \dots\dots\dots \text{ l och } \dots\dots\dots \text{ dl}$$

$$7 \text{ dl} + 7 \text{ dl} = \dots\dots\dots \text{ l och } \dots\dots\dots \text{ dl}$$

$$5 \text{ dl} + 5 \text{ dl} = \dots\dots\dots \text{ l och } \dots\dots\dots \text{ dl}$$

$$2 \text{ dl} + 7 \text{ dl} = \dots\dots\dots \text{ l och } \dots\dots\dots \text{ dl}$$



Kurre och hans tre kompisar har samlat två liter kottar.
Nu ska de dela lika. Hur mycket får de var?
Visa hur du tänker med bild eller text.



Svar: