

Matte+

Träna mera

FACIT



2 liter =
20 dl

Volym 1

Liter och deciliter

Matsked, tesked och kryddmått

Namn:


Upphovsrätten till materialet tillhör Skolplus AB.
Materialet kan användas i den egna interna verksamheten under förutsättning att man har en licens för Skolplus. Se vår webbsida skolplus.se för priser. Materialet får ej spridas vidare på till exempel internet.




Med **volym** menas hur mycket som ryms inuti något. Ett sätt att mäta det är i **liter** och **deciliter**.

Liter förkortas *l*.
Deciliter förkortas *dl*.

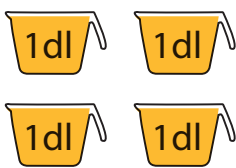
1 liter är 10 deciliter.



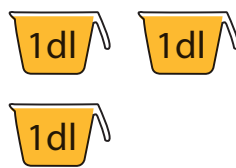
=



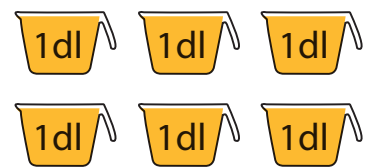
Hur många deciliter saft är det?



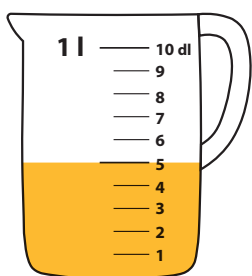
.....**4**..... dl



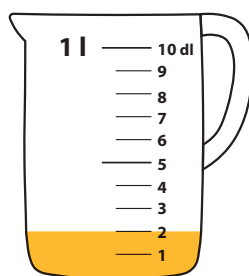
.....**3**..... dl



.....**6**..... dl



.....**5**..... dl



.....**2**..... dl



.....**8**..... dl



Måla rätt mängd saft.

Four red 1dl cups and four white 1dl cups, with two more white 1dl cups below. Total 10 cups.

4 dl

Four red 1dl cups, four white 1dl cups, and two more red 1dl cups below. Total 10 cups.

10 dl

Two red 1dl cups and two white 1dl cups, with two more white 1dl cups below. Total 6 cups.

2 dl

A measuring cup with a scale from 1 to 10 dl. The red liquid is filled up to the 4 dl mark.

4 dl

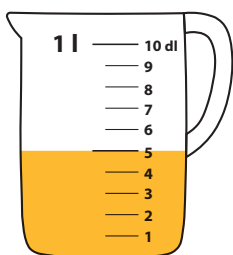
A measuring cup with a scale from 1 to 10 dl. The red liquid is filled up to the 8 dl mark.

8 dl

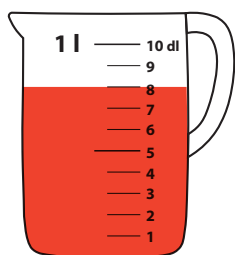
A measuring cup with a scale from 1 to 10 dl. The red liquid is filled up to the 5 dl mark.

5 dl


Det fanns en liter saft i varje kanna.
Hur många deciliter har elefanten druckit från var och en?




5 dl




2 dl



8 dl




3 dl




6 dl



10 dl





Ett vanligt mjölkpaket rymmer 1 liter.
Ett litet glas rymmer ungefär 2 deciliter.

= 1 liter

= ca 2 deciliter

Hur mycket tror du rymmer? Ringa in.

1 dl

1 liter

3 dl

3 liter

1 dl

1 liter

10 dl

10 liter

2 dl

2 liter

2 dl

2 liter

Hur mycket blir det tillsammans?


6 dl

10 dl


6 dl




I recept används ofta måtten matsked, tesked och kryddmått.



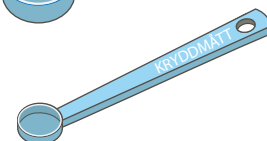
Matsked (msk)



Tesked (tsk)



Kryddmått (krm)



Ringa in det största måttet. Kryssa över det minsta.

Matsked

Tesked

~~**Kryddmått**~~

Krokodilen älskar plättar! Gör om receptet så att det räcker till åtta portioner.

Plättar

4 portioner

2 ägg

5 dl mjölk

2 dl mjöl

En halv tsk salt

1 msk smör

8 portioner

4 ägg

10 dl (eller 1 liter) mjölk

4 dl mjöl

1 tsk salt

2 msk smör

Kom ihåg att skriva enhet, som dl, msk eller tsk, där det behövs.





Skriv som deciliter.



..... **10** dl



..... **20** dl



..... **50** dl



..... **40** dl



..... **30** dl



..... **100** dl

Skriv som liter.

10 dl = **1** l

60 dl = **6** l

90 dl = **9** l

30 dl = **3** l

40 dl = **4** l

100 dl = **10** l

80 dl = **8** l

50 dl = **5** l

Skriv som liter och deciliter.

38 dl = **3** l och **8** dl

12 dl = **1** l och **2** dl

26 dl = **2** l och **6** dl



Du får hjälp med den första. 38 deciliter är lika med 3 liter och 8 deciliter.

7 dl = **0** l och **7** dl

43 dl = **4** l och **3** dl



Räkna ut och skriv som liter och deciliter.

$$8 \text{ dl} + 4 \text{ dl} = \dots 1 \dots \text{ l och } \dots 2 \dots \text{ dl}$$


$$7 \text{ dl} + 7 \text{ dl} = \dots 1 \dots \text{ l och } \dots 4 \dots \text{ dl}$$

$$5 \text{ dl} + 5 \text{ dl} = \dots 1 \dots \text{ l och } \dots 0 \dots \text{ dl}$$

$$2 \text{ dl} + 7 \text{ dl} = \dots 0 \dots \text{ l och } \dots 9 \dots \text{ dl}$$



Kurre och hans tre kompisar har samlat två liter kottar.
Nu ska de dela lika. Hur mycket får de var?
Visa hur du tänker med bild eller text.



Svar: De får 5 dl (en halv liter) kottar var.